

# GALOP 3 et 4

Nom :

Prénom :

Club hippique




Le Centaure

## GALOP 3 • Équitation

### Question 1

Connais-tu le vocabulaire correct consacré à l'emploi des aides ?


- A ☐ Les mains agissent pour faire tourner le cheval.
- B ☐ Une main tire pour arrêter le cheval.
- C ☐ Les mains peuvent résister, pour obtenir certains effets.
- D ☐ Les jambes agissent pour faire avancer le cheval.
- E ☐ Les mains cèdent, lorsqu'elles cessent d'agir.



### Question 2

Que faut-il faire pour partir au galop à droite ?


- A ☐ Il faut remettre le cheval au pas, pour partir au galop.
- B ☐ Reculer légèrement la jambe gauche.
- C ☐ Relâcher complètement les rênes.
- D ☐ Se pencher à droite.
- E ☐ Accompagner le galop avec le bassin.



### Question 3

Comment procéder, pour franchir correctement des obstacles ?


- A ☐ Équilibrer le cheval, en abordant l'obstacle.
- B ☐ Se diriger au milieu de l'obstacle.
- C ☐ Sauter l'obstacle de biais.
- D ☐ Entretenir l'impulsion pour éviter que le cheval refuse.
- E ☐ Détendre complètement les rênes, dans la dernière foulée.
- F ☐ Ne pas laisser zigzaguer le cheval, à l'abord de l'obstacle.



#### Question 4

Observe ces cavaliers avant de répondre aux questions suivantes :


- A ☐ On appelle diagonal droit : l'antérieur droit et le postérieur gauche.
- B ☐ Trotter à droite signifie : être assis lors du poser du diagonal droit.
- C ☐ Le cavalier piste à main gauche doit trotter à droite.
- D ☐ Le cavalier 1 est au pas.
- E ☐ Le cavalier 2 trotte à droite.
- F ☐ Le cavalier 3 trotte à gauche.



#### Question 5

Comment procéder, pour conduire un cheval au trot sur des courbes serrées ?


- A ☐ Entretenir l'impulsion avant de tourner.
- B ☐ Tourner le buste à droite pour tourner à gauche.
- C ☐ Il est préférable de se mettre au trot assis pour tourner.
- D ☐ Préparer les aides suffisamment tôt, avant de tourner.





### Question 6

Comment faut-il se comporter en franchissant des obstacles ?



- A ☐ Il faut prendre de l'élan pour franchir les obstacles larges.
- B ☐ Il faut canaliser le cheval à l'abord de l'obstacle.
- C ☐ Entre les obstacles, il faut rééquilibrer le cheval.
- D ☐ Si le cheval dérobe, le laisser faire.
- E ☐ Les coups de cravache sur la tête sont interdits.

### Question 7

Comment procéder pour franchir des difficultés naturelles ?


- A ☐ Laisser souffler le cheval au milieu d'une longue montée.
- B ☐ En terrain difficile, laisser le cheval regarder où il met ses pieds.
- C ☐ Galoper sur un terrain glissant.
- D ☐ Rentrer prudemment et lentement dans l'eau.
- E ☐ Marcher devant le cheval, s'il hésite à passer.
- F ☐ Se pencher en arrière dans les montées.



### Question 8

Sais-tu comment inspecter les pieds d'un cheval ?


- A ☐ Curer les pieds du cheval, avant et après le travail.
- B ☐ En curant les pieds, il faut également vérifier l'état de la ferrure.
- C ☐ Une bleime correspond à une blessure de la sole.
- D ☐ Il faut graisser les pieds une seule fois par an.
- E ☐ On peut graisser les pieds une à deux fois par semaine.
- F ☐ Une seime est une fente dans la corne du sabot.



### Question 9

Sais-tu comment inspecter les membres du cheval ?

- A ☐ Un tendon engorgé est généralement froid.
- B ☐ Un tendon chaud est généralement fatigué.
- C ☐ Une douche prolongée fait du bien aux tendons.
- D ☐ Il faut sécher les plis des paturons après avoir douché les membres.
- E ☐ Les bandes de repos reposent les tendons.






### Question 10

Quels soins sont nécessaires avant de faire travailler le cheval ?

- A ☐ Avant de seller, il faut s'assurer que le dos du cheval n'est pas blessé.
- B ☐ Une gonfle correspond à un membre enflé.
- C ☐ Le pansage favorise la respiration de la peau.
- D ☐ Dès la sortie du box, il faut sauter des obstacles.
- E ☐ Il faut échauffer le cheval avant de le faire travailler.
- F ☐ En hiver, il n'est pas nécessaire d'échauffer le cheval.



### Question 11

En plus des soins aux membres, d'autres opérations sont nécessaires au retour du travail. Les connais-tu ?

- A ☐ Il faut bouchonner le cheval avec de la paille s'il est en sueur.
- B ☐ En hiver, il faut doucher le cheval qui a transpiré.
- C ☐ Le cheval ne doit pas boire beaucoup d'eau froide d'une seule traite s'il transpire.
- D ☐ Attacher le cheval en sueur dans le vent pour qu'il sèche.
- E ☐ Le couteau de chaleur sert à couper les poils du cheval qui a chaud.
- F ☐ Le couteau de chaleur sert à essorer le poil.



### Question 12


Quelles sont les différentes utilités de la litière ?

- A ☐ Absorber l'urine du cheval.
- B ☐ Isoler du froid.
- C ☐ Conserver l'humidité de la corne des sabots.
- D ☐ Permettre au cheval de se coucher confortablement.
- E ☐ Permettre au cheval de se rouler.
- F ☐ Mettre le cheval à l'abri des affections de la peau.

### Question 13

Sais-tu ajuster correctement ton harnachement ?

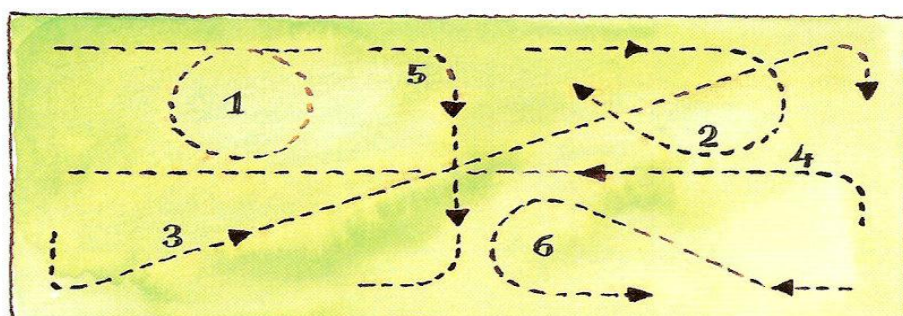
- A ☐ La sous-gorge doit être serrée à fond.
- B ☐ Le frontal est placé sous le toupet.
- C ☐ Le mors ne doit pas comprimer les commissures des lèvres.
- D ☐ Les montants du filet doivent être réglés le plus court possible.
- E ☐ Le mors doit dépasser légèrement de chaque côté de la bouche.



### Question 14

Pour vérifier si tu connais bien les figures simples de manège, note dans les cases correspondantes, les numéros qui figurent sur les dessins.

- |   |  |   |
|---|--|---|
| A <input type="checkbox"/> Diagonale                | C <input type="checkbox"/> Doubler dans la largeur | E <input type="checkbox"/> Demi-volte           |
| B <input type="checkbox"/> Doubler dans la longueur | D <input type="checkbox"/> Volte                   | F <input type="checkbox"/> Demi-volte renversée |





### Question 15

Sais-tu pourquoi il faut trotter sur un diagonal ou sur l'autre ?

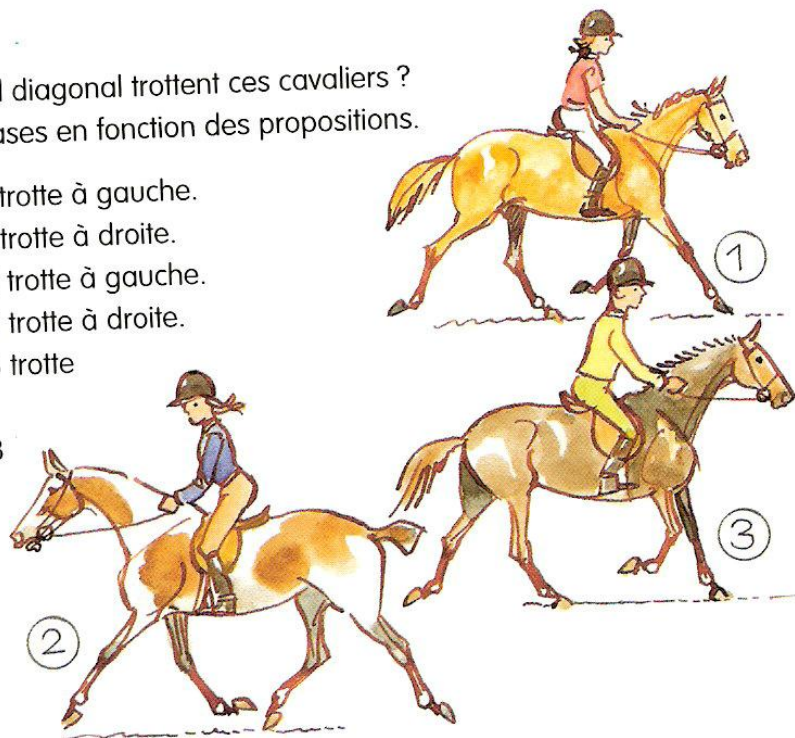
- A ☐ Il est conseillé de trotter toujours sur le même diagonal.
- B ☐ Le cavalier piste à main droite doit trotter à gauche.
- C ☐ Le cavalier piste à main gauche doit trotter à gauche.
- D ☐ En promenade, il faut changer régulièrement de diagonal.
- E ☐ Trotter constamment sur le même diagonal fatigue le cheval.
- F ☐ Diagonal droit : antérieur droit et postérieur gauche.



### Question 16

Peux-tu dire sur quel diagonal trottent ces cavaliers ?  
Coche les bonnes cases en fonction des propositions.

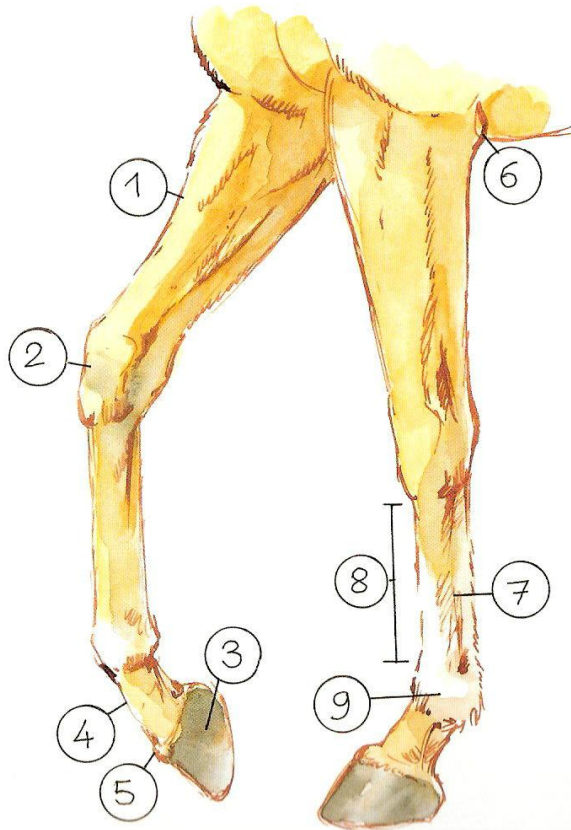
- A ☐ Le cavalier 1 trotte à gauche.
- B ☐ Le cavalier 1 trotte à droite.
- C ☐ Le cavalier 2 trotte à gauche.
- D ☐ Le cavalier 2 trotte à droite.
- E ☐ Le cavalier 3 trotte à gauche.
- F ☐ Le cavalier 3 trotte à droite.



### Question 17

Note dans les bonnes cases de la liste les numéros des différentes parties des membres antérieurs du cheval.

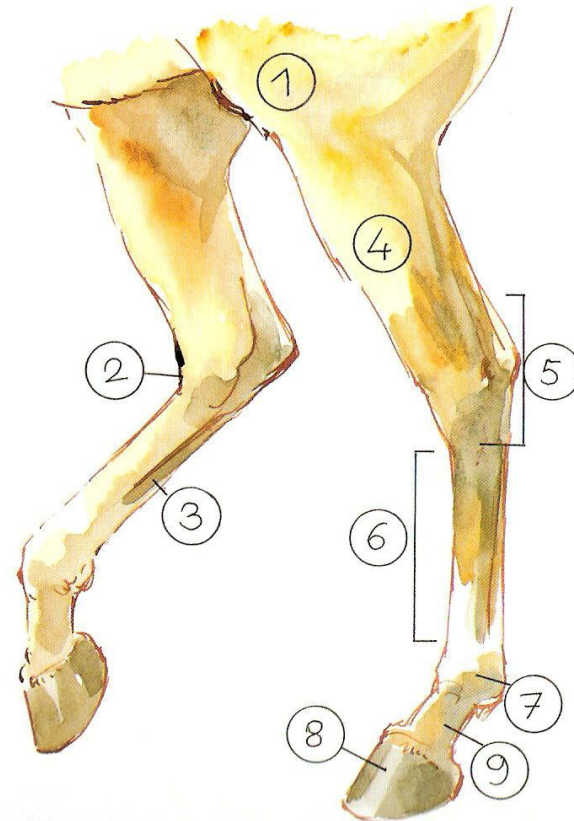
- |                                     |                                       |                                    |
|-------------------------------------|---------------------------------------|------------------------------------|
| A <input type="checkbox"/> Coude    | D <input type="checkbox"/> Paturon    | G <input type="checkbox"/> Canon   |
| B <input type="checkbox"/> Pied     | E <input type="checkbox"/> Avant-bras | H <input type="checkbox"/> Tendons |
| C <input type="checkbox"/> Couronne | F <input type="checkbox"/> Genou      | I <input type="checkbox"/> Boulet  |



### Question 18

Note dans les bonnes cases de la liste les numéros des différentes parties des membres postérieurs du cheval.

- |                                   |                                    |  |
|-----------------------------------|------------------------------------|--|
| A <input type="checkbox"/> Cuisse | D <input type="checkbox"/> Paturon | G <input type="checkbox"/> Grasset ou rotule |
| B <input type="checkbox"/> Pied   | E <input type="checkbox"/> Boulet  | H <input type="checkbox"/> Jarret            |
| C <input type="checkbox"/> Canon  | F <input type="checkbox"/> Tendons | I <input type="checkbox"/> Pli du jarret     |

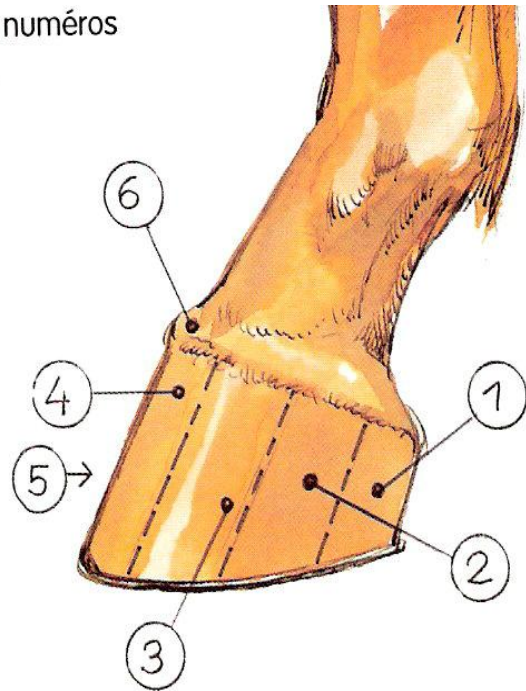




### Question 19

Note dans les bonnes cases de la liste les numéros des différentes parties du pied vu de côté.

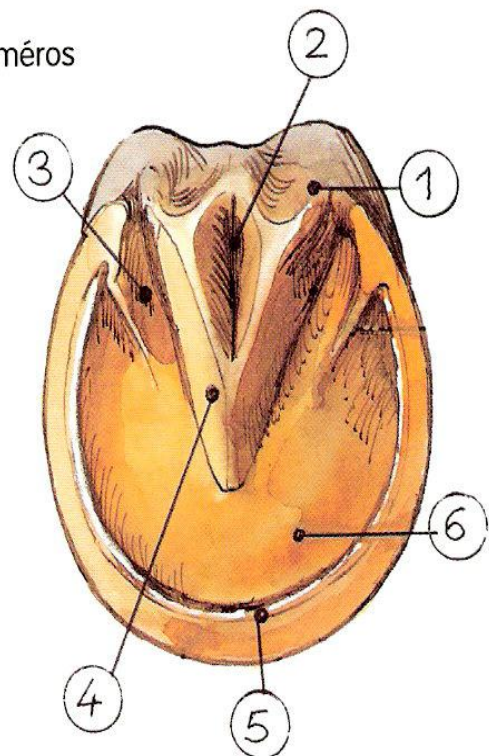
- A ☐ Bourrelet périoplique
- B ☐ Talon
- C ☐ Paroi
- D ☐ Mamelle
- E ☐ Pince
- F ☐ Quartier



### Question 20

Note dans les bonnes cases de la liste les numéros des différentes parties de la partie inférieure du pied.


- A ☐ Fourchette
- B ☐ Lacune médiane
- C ☐ Lacunes latérales
- D ☐ Glômes
- E ☐ Sole
- F ☐ Ligne blanche



### Question 22

Pour t'assurer que tu connais bien l'allure du pas, coche les cases qui te semblent bonnes.


- A ☐ C'est une allure sautée.
- B ☐ C'est une allure marchée.
- C ☐ Le pas comprend quatre temps.
- D ☐ Le pas est plus rapide que le trot.
- E ☐ Au pas, le cheval balance son encolure.
- F ☐ Un bipède comprend deux membres.



### Question 23

Pour t'assurer que tu connais bien l'allure du trot, coche les cases qui te semblent bonnes.

- A ☐ C'est une allure marchée.
- B ☐ C'est une allure sautée.
- C ☐ Le trot est une allure à deux temps.
- D ☐ Le trot est une allure symétrique.
- E ☐ C'est une allure basculée.
- F ☐ Comme le pas, le trot est une allure à quatre temps.



### Question 24

Pour t'assurer que tu connais bien l'allure du galop, coche les cases qui te semblent bonnes.

- A ☐ Le galop est une allure basculée.
- B ☐ Le galop est une allure marchée.
- C ☐ Le galop est une allure dissymétrique.
- D ☐ Le troisième temps du galop est suivi d'une période de projection.

